


1. Chacun des dessins représente un des trois ordres (groupes) de la société au Moyen Age. Complète :



2. Réponds aux questions en lisant le document de droite :

a) Présente ce document :

Nature :

Auteur :

Date-t-il du Moyen Age ? Explique :


b) Donne un titre (résumé) à ce document :

c) Trouve 2 techniques d'attaque utilisées par les assaillants :

-
-


d) Trouve 2 techniques de défense :

-
-

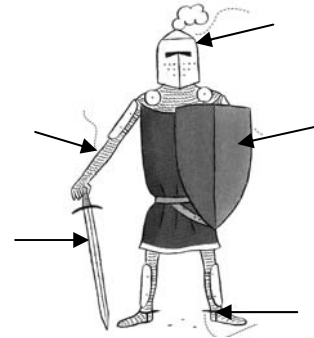


Extrait de « La vie au temps des chevaliers » de Madeleine Michaux et Catherine Brus, 2003.

3. Annote les 10 flèches :



4. Annote les 5 flèches :




5. Complète et annote :

Titre :



Titre :



le

des

le

le but du jeu est de

6. Complète :

En cas de danger, les peuvent trouver refuge dans le du

En échange, ils lui :

- paient des
- donnent une partie des
- et au château plusieurs jours par an.