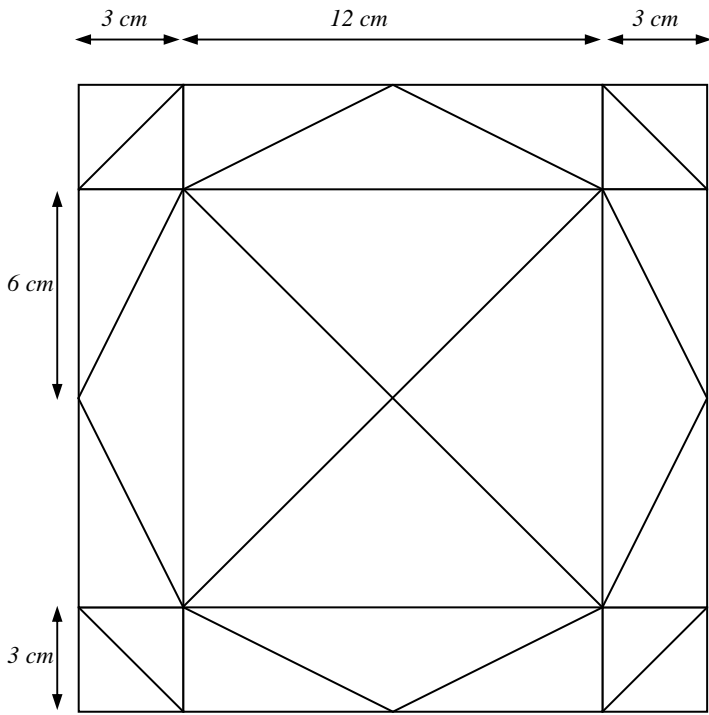


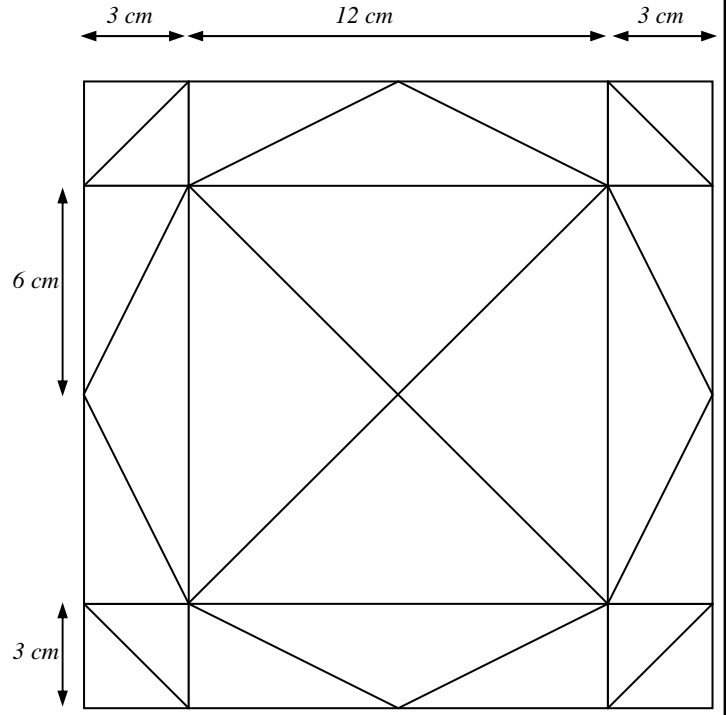
**Géométrie : reproduire une figure.**

*Trace un carré de 18 cm de côté avec l'équerre et le compas.  
Puis trace ensuite la figure suivante en respectant les mesures.*



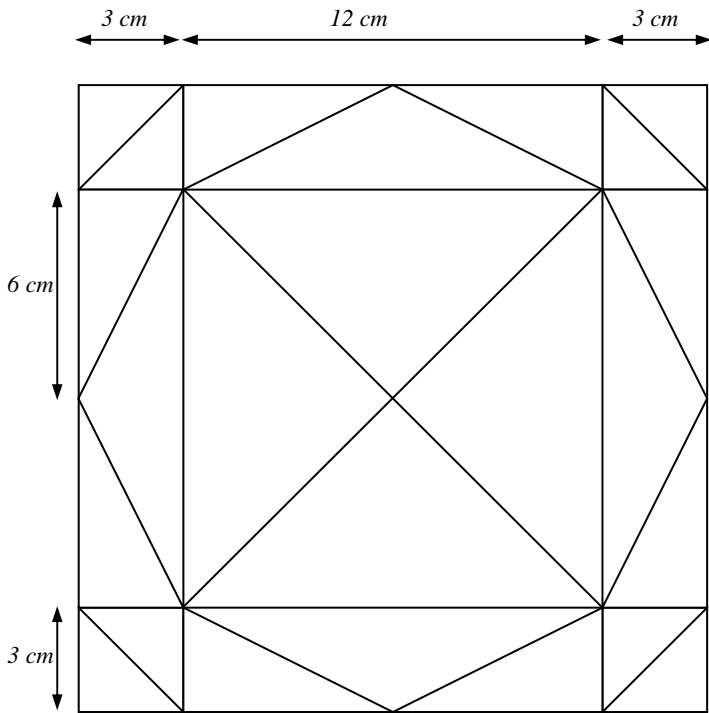
**Géométrie : reproduire une figure.**

*Trace un carré de 18 cm de côté avec l'équerre et le compas.  
Puis trace ensuite la figure suivante en respectant les mesures.*



**Géométrie : reproduire une figure.**

*Trace un carré de 18 cm de côté avec l'équerre et le compas.  
Puis trace ensuite la figure suivante en respectant les mesures.*



**Géométrie : reproduire une figure.**

*Trace un carré de 18 cm de côté avec l'équerre et le compas.  
Puis trace ensuite la figure suivante en respectant les mesures.*

