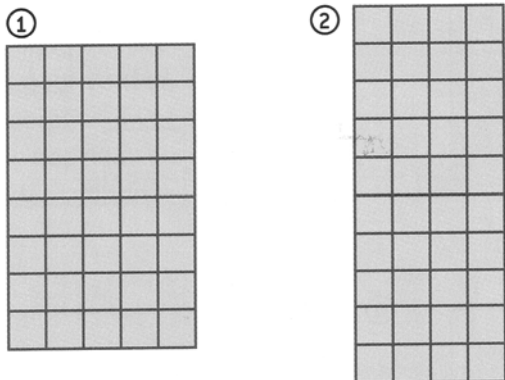


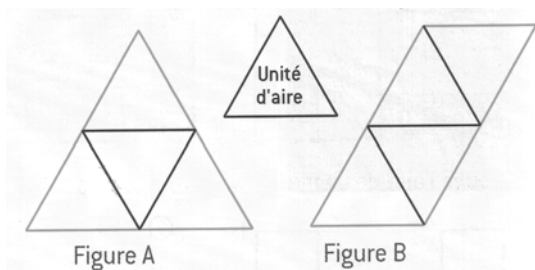
Mesures : aires et pavages.

L'aire d'une figure est la mesure de sa surface. L'unité d'aire peut être un carré ou une autre figure, comme dans l'exercice 2.

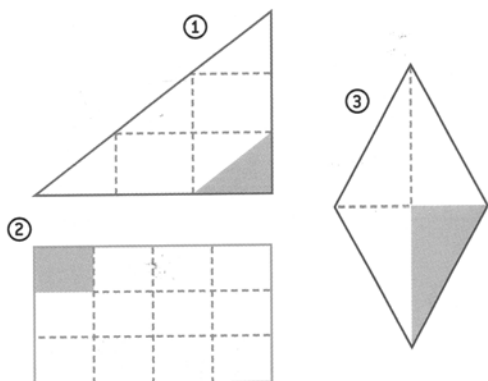
1. Exercice de recherche : quelle est l'aire la plus grande ? Prouvez-le.



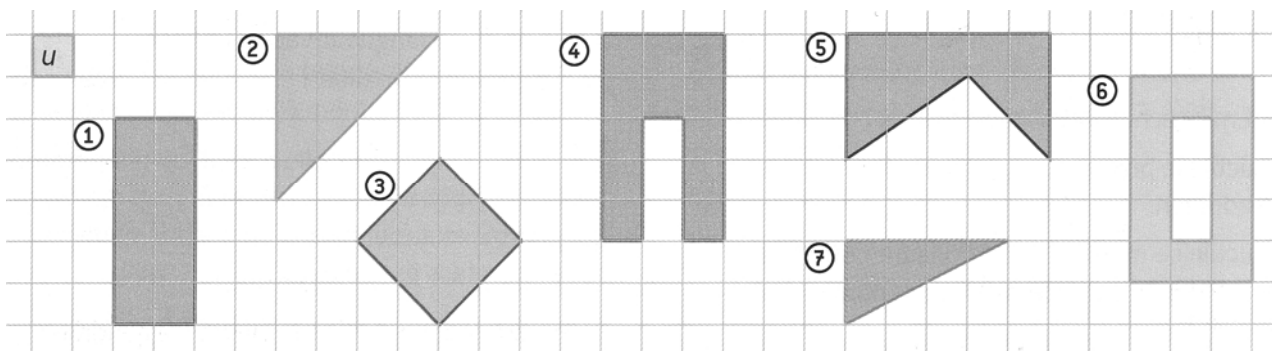
2. Compare l'aire des figures A et B.



3. Trouve l'aire de chaque figure à l'aide de l'unité d'aire grisée.



4. Trouve l'aire de chaque figure avec l'unité proposée puis range-les par ordre croissant.



5. Dessine trois rectangles différents ayant chacun une aire de 12 carreaux.

6. Même consigne avec une aire de 10 carreaux.