

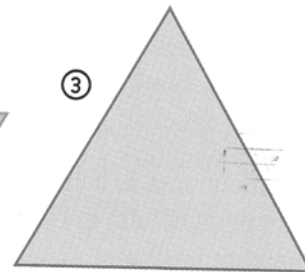




Mesures : comparaison de surfaces.


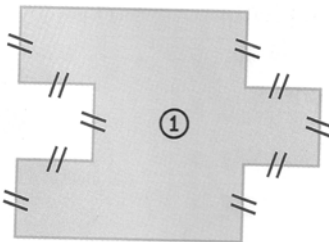
1. Exercice de recherche : lequel de ces deux morceaux du même tissu est le plus grand ? Utilisez les copies.



2. Utilise les trois figures A photocopiées pour les comparer aux figures 1, 2 et 3 (plus petite ? plus grande ?)



3. Compare les périmètres puis les surface des deux figures suivantes. Que remarques-tu d'étonnant ?



4. A partir d'un même carré, on a inventé des formes en y découpant un certain nombre de petits carrés. Range les figures dans l'ordre croissant : de celle qui a la plus petite surface à celle qui a la plus grande.

