

Numération : les fractions (cahier du jour).

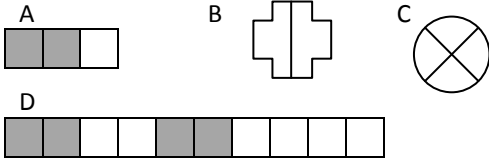
1. Ecris les fractions suivantes avec des chiffres.

Un demi - Deux quarts – Trois tiers – Cinq dixièmes.

2. Ecris ces fractions en toutes les lettres.

$$\frac{1}{2} ; \frac{3}{4} ; \frac{2}{6} ; \frac{2}{3} ; \frac{7}{10}$$

3. Ecris la fraction qui correspond à la partie coloriée.

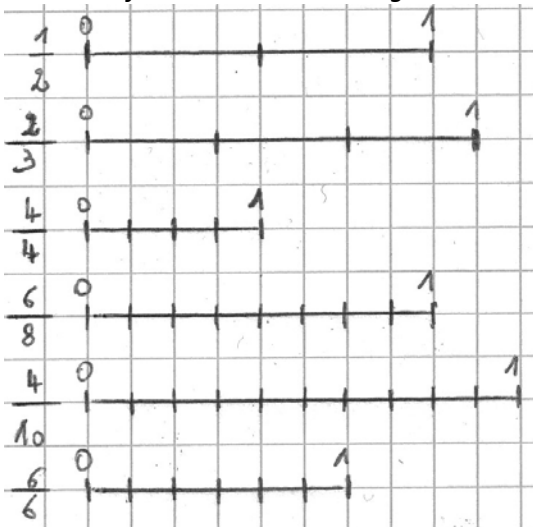


4. Partage (équitablement) les figures suivantes en fonction du dénominateur puis colorie la partie qui correspond à la fraction.

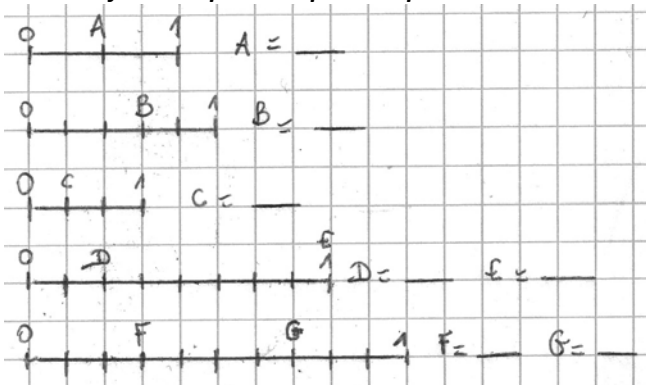
A = $\frac{3}{5}$

B = $\frac{1}{4}$ C = $\frac{6}{6}$

5. Place les fractions sur les droites graduées :



6. Ecris la fraction qui correspond au point sur la droite.



Numération : les fractions (cahier du jour).

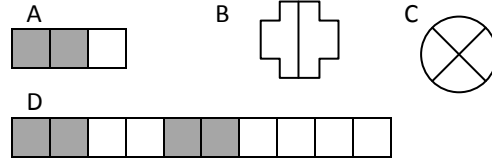
1. Ecris les fractions suivantes avec des chiffres.

Un demi - Deux quarts – Trois tiers – Cinq dixièmes.

2. Ecris ces fractions en toutes les lettres.

$$\frac{1}{2} ; \frac{3}{4} ; \frac{2}{6} ; \frac{2}{3} ; \frac{7}{10}$$

3. Ecris la fraction qui correspond à la partie coloriée.

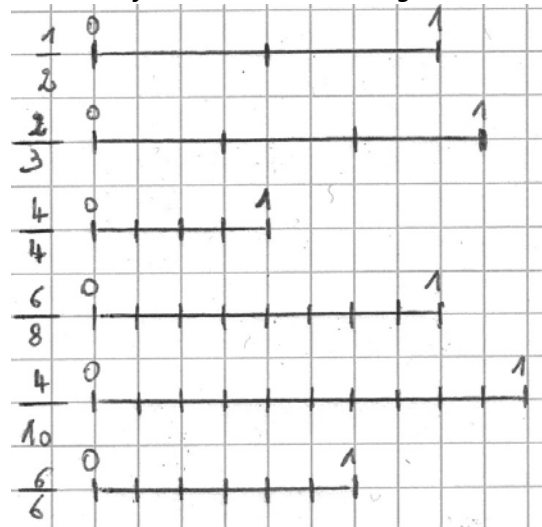


4. Partage (équitablement) les figures suivantes en fonction du dénominateur puis colorie la partie qui correspond à la fraction.

A = $\frac{3}{5}$

B = $\frac{1}{4}$ C = $\frac{6}{6}$

5. Place les fractions sur les droites graduées :



6. Ecris la fraction qui correspond au point sur la droite.

