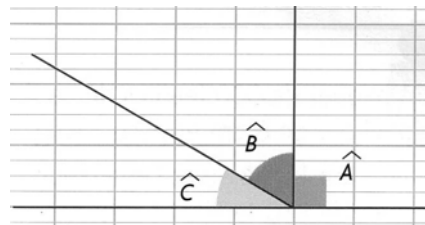


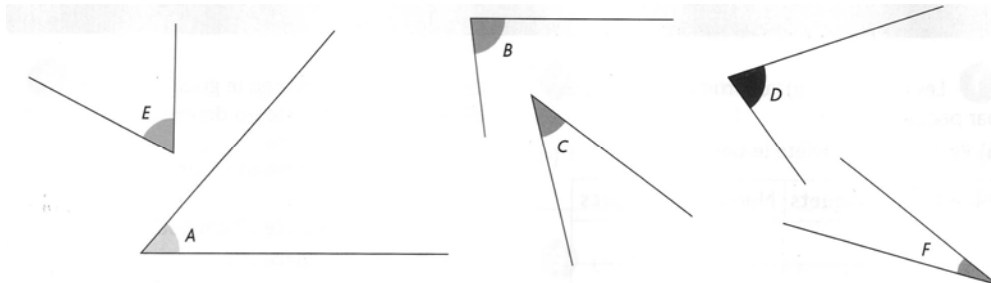
Mesure d'angles.

1. Indique la nature de chaque angle (tu peux utiliser ton essentiel) :

\hat{A} est un
B est un
C est un

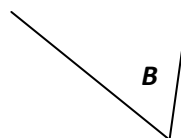


2. Quel est le point commun de tous ces angles ?



3. Construis une « équerre » en papier et colle la sur ta feuille.

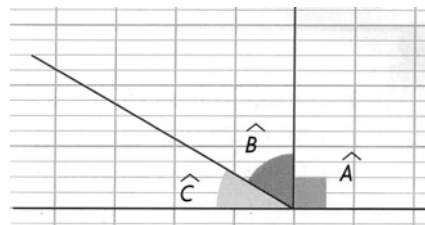
4. Reproduis avec des morceaux de papier pliés les angles suivants (= des gabarits) et colle les.



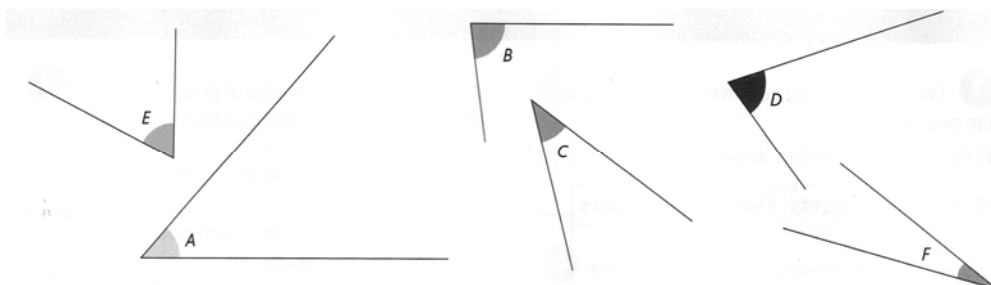
Mesure d'angles.

1. Indique la nature de chaque angle (tu peux utiliser ton essentiel) :

\hat{A} est un
B est un
C est un



2. Quel est le point commun de tous ces angles ?



3. Construis une « équerre » en papier et colle la sur ta feuille.

4. Reproduis avec des morceaux de papier pliés les angles suivants (= des gabarits) et colle les.

