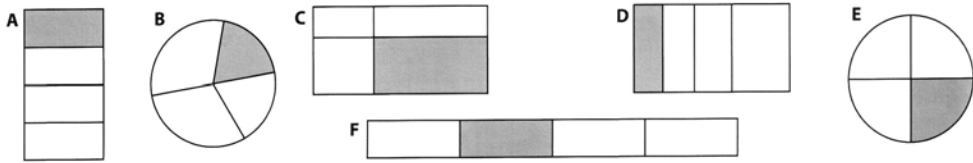



Numération : les fractions.

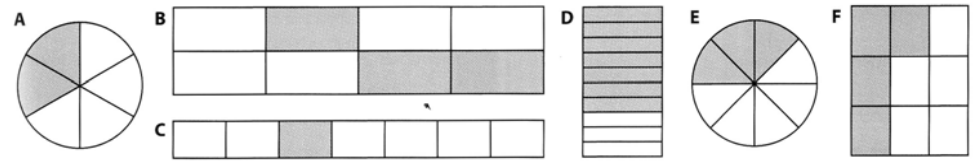
1. Entoure les figures dont on a colorié le quart.



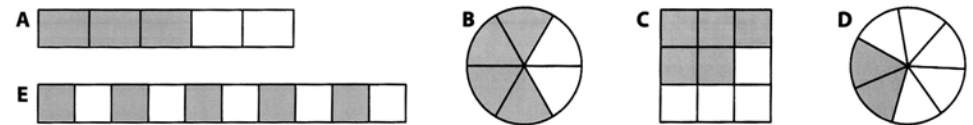
2. Entoure les fractions dont on a colorié le tiers.



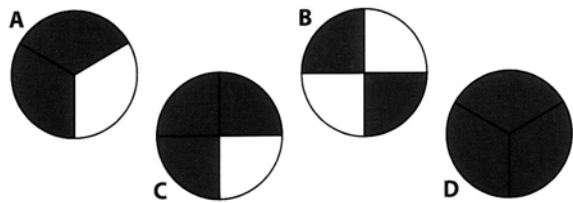
3. Pour chaque figure, écris la fraction qui correspond à la partie coloriée.



4. Pour chaque figure, écris la fraction qui correspond à la partie non coloriée.



5. On a colorié deux tiers de la figure A. Ecris sous la forme d'une fraction la partie coloriée dans chaque figure.

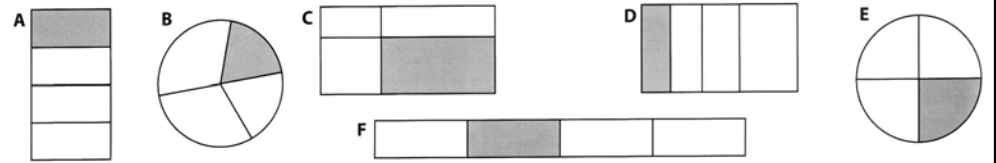


6. Ecris les fractions suivantes en chiffres : a) un cinquième – b) quatre huitième – c) cinq sixièmes – d) deux septièmes – e) trois tiers – f) un demi.

7. Ecris les fractions en lettres : $\frac{1}{4}$ $\frac{1}{2}$ $\frac{3}{4}$ $\frac{5}{8}$

Numération : les fractions.

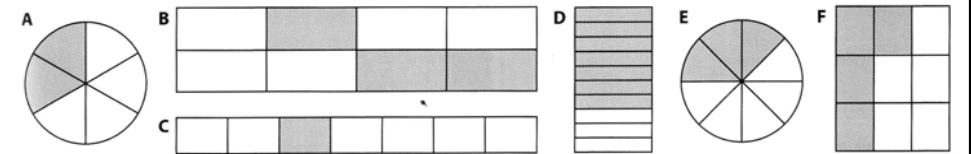
1. Entoure les figures dont on a colorié le quart.



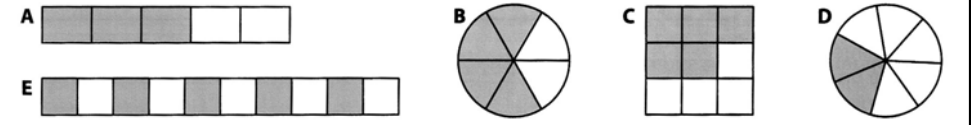
2. Entoure les fractions dont on a colorié le tiers.



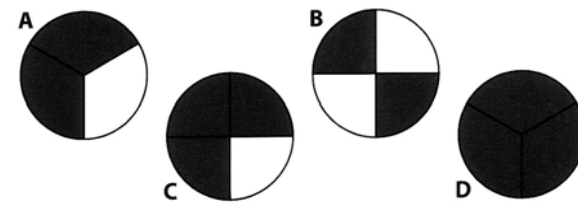
3. Pour chaque figure, écris la fraction qui correspond à la partie coloriée.



4. Pour chaque figure, écris la fraction qui correspond à la partie non coloriée.



5. On a colorié deux tiers de la figure A. Ecris sous la forme d'une fraction la partie coloriée dans chaque figure.



6. Ecris les fractions suivantes en chiffres : a) un cinquième – b) quatre huitième – c) cinq sixièmes – d) deux septièmes – e) trois tiers – f) un demi.

7. Ecris les fractions en lettres : $\frac{1}{4}$ $\frac{1}{2}$ $\frac{3}{4}$ $\frac{5}{8}$