

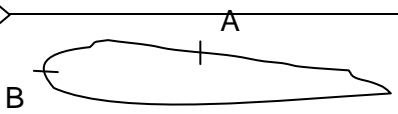


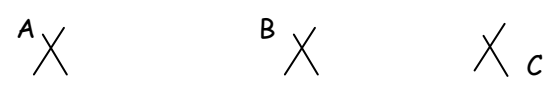


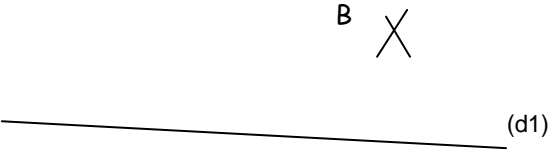
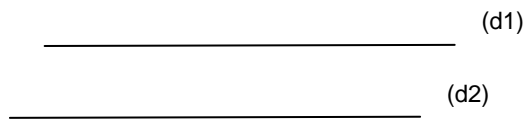
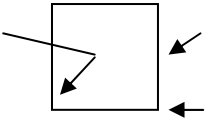
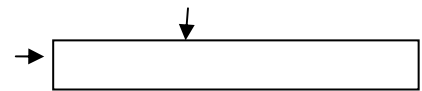
Prénom : .....

Date : .....

Géométrie : du vocabulaire pour décrire des polygones.

Complète :

Trace, complète ou réponds à la question :

Trace un point A et un point B écartés de 3 cm.	
Ceci est une courbe fermée qui passe par les ..... A et B.	
(d1) et (d2) sont ..... en A.	
Trace un segment [EF] de 3 cm sur la droite (d).	
Est-ce que les points A, B et C sont alignés ? Vérifie en traçant une droite.	
Est-ce que les points A, B et C sont alignés ? Vérifie en traçant une droite.	
La différence entre une droite et un segment...	
Trace deux droites sécantes et nomme- les.	
Trace une droite (d2) $\perp$ à (d1) et passant par A	
Trace une droite (d2) $\perp$ à (d1) et passant par B	
(d1) et (d2) sont ..... On peut aussi écrire : (d1) ..... (d2)	
Décris le carré.	
Décris le rectangle.	
La différence entre le rayon et le diamètre d'un cercle ?	