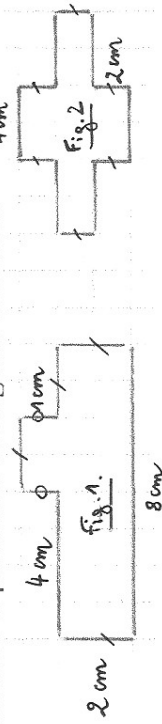


### Mesures de périmètres et d'aires :


1. Calcule le périmètre des figures suivantes.



2. Calcule le périmètre d'un carré de côté 7 cm.
3. Calcule l'aire d'un carré de côté 9 cm.
4. Calcule le périmètre d'un rectangle de longueur 7 cm et de largeur 3 cm.
5. Calcule l'aire d'un rectangle de longueur 9 cm et de largeur 4 cm.
6. Calcule le périmètre d'un carré de côté 12 cm.
7. Calcule l'aire d'un rectangle de longueur 12 cm et de largeur 8 cm.

### Mesures de périmètres et d'aires :

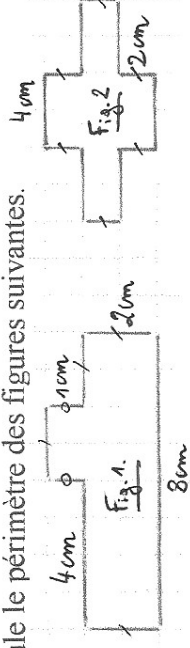
1. Calcule le périmètre des figures suivantes.



2. Calcule le périmètre d'un carré de côté 7 cm.
3. Calcule l'aire d'un carré de côté 9 cm.
4. Calcule le périmètre d'un rectangle de longueur 7 cm et de largeur 3 cm.
5. Calcule l'aire d'un rectangle de longueur 9 cm et de largeur 4 cm.
6. Calcule le périmètre d'un carré de côté 12 cm.
7. Calcule l'aire d'un rectangle de longueur 12 cm et de largeur 8 cm.

### Mesures de périmètres et d'aires :


1. Calcule le périmètre des figures suivantes.



2. Calcule le périmètre d'un carré de côté 7 cm.
3. Calcule l'aire d'un carré de côté 9 cm.
4. Calcule le périmètre d'un rectangle de longueur 7 cm et de largeur 3 cm.
5. Calcule l'aire d'un rectangle de longueur 9 cm et de largeur 4 cm.
6. Calcule le périmètre d'un carré de côté 12 cm.
7. Calcule l'aire d'un rectangle de longueur 12 cm et de largeur 8 cm.

### Mesures de périmètres et d'aires :

1. Calcule le périmètre des figures suivantes.



2. Calcule le périmètre d'un carré de côté 7 cm.
3. Calcule l'aire d'un carré de côté 9 cm.
4. Calcule le périmètre d'un rectangle de longueur 7 cm et de largeur 3 cm.
5. Calcule l'aire d'un rectangle de longueur 9 cm et de largeur 4 cm.
6. Calcule le périmètre d'un carré de côté 12 cm.
7. Calcule l'aire d'un rectangle de longueur 12 cm et de largeur 8 cm.