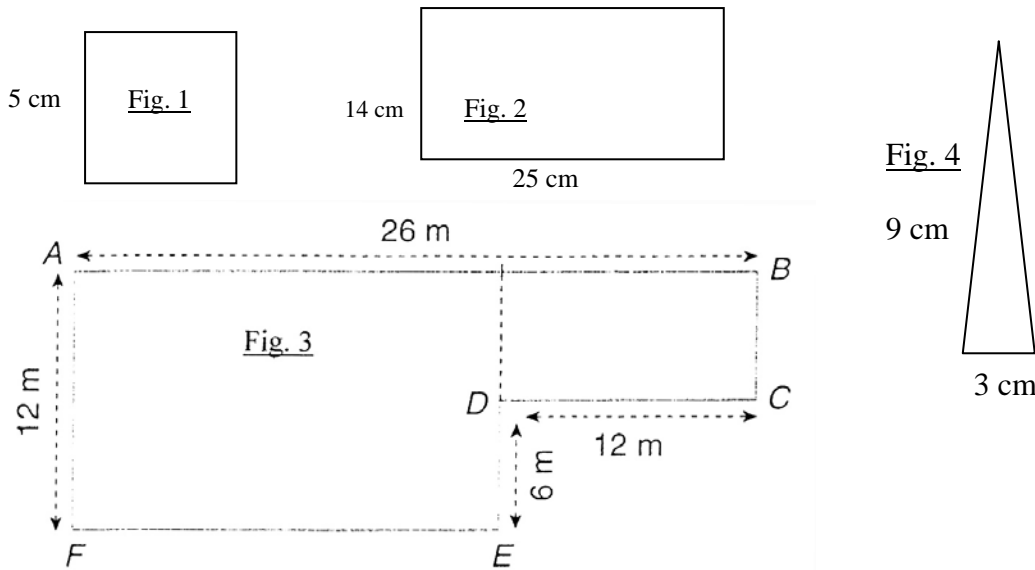


C. Mesure de périmètres.

/20

1. Calcule le périmètre des figures suivantes.

/14 points



2. Résous les problèmes en présentant clairement tes calculs et tes résultats. Fais des schémas !

/6 points

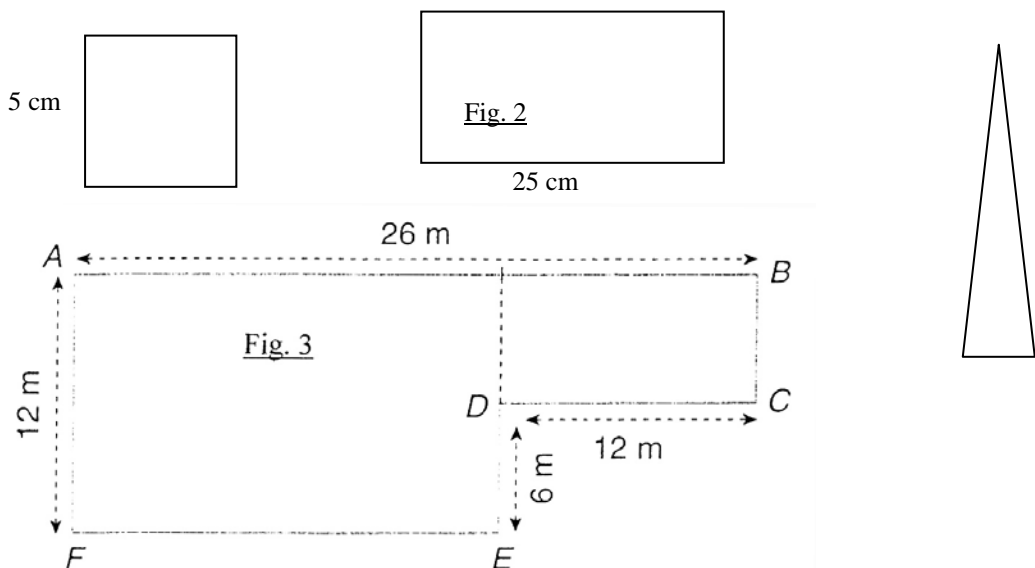
- a) Trouve la mesure des côtés d'un carré dont le périmètre mesure 36 cm.
- b) Trouve la longueur d'un rectangle dont la largeur mesure 5 cm et le périmètre 24 cm.
- c) Trouve la mesure des côtés d'un triangle équilatéral de périmètre 39 cm.

C. Mesure de périmètres.

/20

1. Calcule le périmètre des figures suivantes.

/14 points



2. Résous les problèmes en présentant clairement tes calculs et tes résultats. Fais des schémas !

/6 points

- a) Trouve la mesure des côtés d'un carré dont le périmètre mesure 36 cm.
- b) Trouve la longueur d'un rectangle dont la largeur mesure 5 cm et le périmètre 24 cm.
- c) Trouve la mesure des côtés d'un triangle équilatéral de périmètre 39 cm.

D. Mesure d'aires.

120

1. Calcule l'aire des 3 premières figures de l'exercice C 1.

/10 points


Aire figure 1?

Aire figure 2?

Aire figure 3?

2. Trace sur le quadrillage un carré dont l'aire mesure 49 cm^2 .

/2 points



3. Trace sur le quadrillage un rectangle dont l'aire mesure 54 cm^2 .

/2 points



4. Résous les problèmes suivants en présentant clairement tes calculs et tes résultats.

/6 points

a) Trouve la mesure des côtés d'un carré dont l'aire mesure 36 cm^2 .

b) Trouve la largeur d'un rectangle dont la longueur mesure 6 cm et l'aire 18 cm^2 .