



D. Mesure d'aires.

1. Calcule l'aire des figures A, B et C et complète pour cela le tableau à droite :

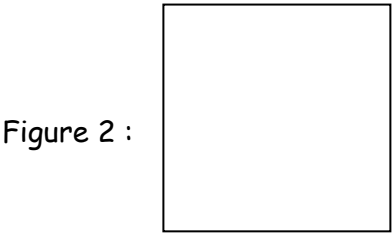
	En prenant a comme unité	En prenant b comme unité
Figure A		
Figure B		
Figure C		



2. Calcule l'aire des figures suivantes en utilisant les formules de calcul :

- a) Calcule l'aire d'un carré de côté 5 cm.
- b) Calcule l'aire d'un carré de coté 13 cm.

3. Calcule l'aire des figures suivantes :



4. Trace sur le quadrillage un carré dont l'aire mesure 36 cm².

5. Trace sur le quadrillage un rectangle dont l'aire mesure 18 cm².

