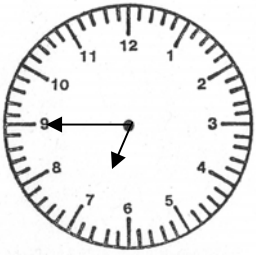
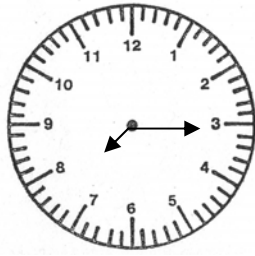


Evaluation en mesure de durées : lire l'heure, conversions, calculs, problèmes.

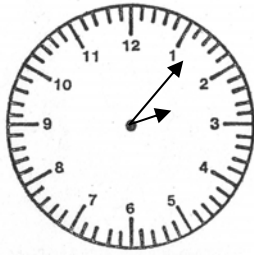
1. Quelle heure est-il ?



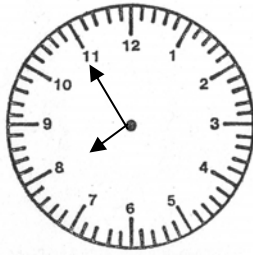
Matin :



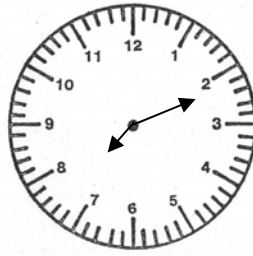
Matin :



Après-midi :



Après-midi :



Après-midi :

2. Place les aiguilles qui indiquent l'heure donnée.



08h15



10h25



12h07



19h43



21h55

3. Convertis dans l'unité demandée.

5 min = ? s → = s

7 h = ? min → = min

4 j = ? h → = h

3 min 25 s = ? s → = s

6 h 33 min = ? min → = min

2 j 12h = ? h → = h

4. "Sors" les grandes unités.

95 s = ? min ? s →

250 s = ? min ? s →

240 s = ? min ? s →

385 min = ? h ? min →

440 min = ? h ? min →

740 min = ? h ? min →

28 h = ? j ? h →

50 h = ? j ? h →

5. Résous le problème suivant :

Un voyageur prend le T.G.V. à Paris à 6 h 25 min et arrive à Lyon à 8 h 20 min.

→Quelle est la durée du trajet ?

.....

Il prend ensuite un train à 10 h 45 min et arrive à destination 94 minutes plus tard.

→ A quelle heure arrive-t-il à destination ?

.....
